

Chapitre 10 Parcours 1

Comment utiliser la formule d'Al Kashi ?

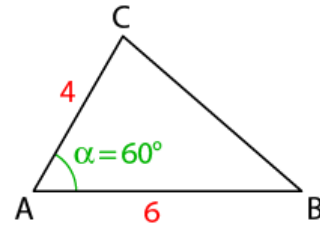
Exemple : ABC est un triangle tel que $AB = 6$, $AC = 4$
et $\widehat{BAC} = 60^\circ$.

Calculer la longueur BC

D'après la formule d'Al-Kashi appliquée au triangle ABC :

$$BC^2 = AB^2 + AC^2 - 2 \times AB \times AC \cos(\widehat{BAC}).$$

$$BC^2 = 6^2 + 4^2 - 2 \times 6 \times 4 \times \cos(60^\circ) = 28 \text{ d'où } BC = \sqrt{28}.$$

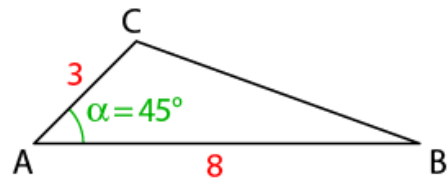


1

ABC est un triangle tel que $AB = 8$, $AC = 3$ et $\widehat{BAC} = 60^\circ$.

Calculer la longueur BC.

- a) Écrire la formule d'Al-Kashi appliquée au triangle ABC pour exprimer BC^2 .

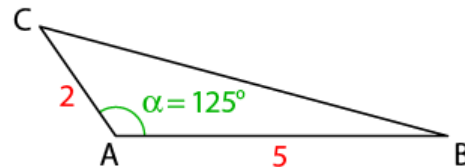


- b) Calculer BC^2 et en déduire BC.

2

ABC est un triangle tel que $AB = 5$, $AC = 2$ et $\widehat{BAC} = 125^\circ$.

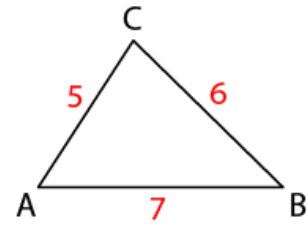
Calculer la longueur BC.



Nom : _____

Classe : _____

3 ABC est un triangle tel que $AB = 7$, $AC = 5$ et $BC = 6$.
Déterminer la mesure, en degrés, de l'angle \widehat{ABC} . Arrondir à l'unité.



a) Écrire la formule d'Al-Kashi appliquée au triangle ABC utilisant l'angle \widehat{ABC} .

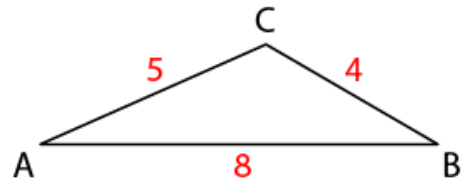
.....

b) Déterminer la valeur de $\cos(\widehat{ABC})$ et en déduire la mesure, en degrés, de l'angle \widehat{ABC} .
Arrondir à l'unité.

.....

.....

4 ABC est un triangle tel que $AB = 8$, $AC = 5$, et $BC = 4$.
Déterminer la mesure, en degrés, de l'angle \widehat{BCA} .
Arrondir à l'unité.



.....

.....

Chapitre 10 Parcours 2

Comment déterminer une équation cartésienne d'une droite connaissant un point et un vecteur normal ?

Exemple : Dans un repère orthonormé, A est le point de coordonnées (2 ; 1). Déterminer une équation cartésienne de la droite d passant par A et de vecteur normal $\vec{n}(3 ; -4)$.

Une équation cartésienne de la droite d de vecteur normal $\vec{n}(3 ; -4)$ est de la forme $3x - 4y + c = 0$.

Le point A(2 ; 1) appartient à d donc $3 \times 2 - 4 \times 1 + c = 0$, soit $c = -2$. Une équation cartésienne de la droite d est $3x - 4y - 2 = 0$.

1 Dans un repère orthonormé, A est le point de coordonnées (2 ; 3).

Déterminer une équation cartésienne de la droite d passant par A et de vecteur normal $\vec{n}(2 ; 5)$.

a) Déterminer la forme de l'équation de d

.....

b) En utilisant le point A, déterminer la valeur de c . Donner l'équation cartésienne de d .

.....

.....

2 Dans un repère orthonormé, A est le point de coordonnées (4 ; 7).

Déterminer une équation cartésienne de la droite d passant par A et de vecteur normal $\vec{n}(-2 ; 3)$.

Nom : _____

Classe : _____

3 (v_n) est la suite définie sur \mathbb{N} par $v_0 = 5$ et $v_{n+1} = \sqrt{2}v_n$.

Calculer $\frac{v_{n+1}}{v_n}$

.....

4 Dans un repère orthonormé, A est le point de coordonnées $(-3 ; -7)$.

Déterminer une équation cartésienne de la droite d passant par A et de vecteur normal $\vec{n}(4 ; -5)$.

Chapitre 10
Parcours 3 Comment déterminer les coordonnées du projeté orthogonal d'un point sur une droite ?

Exemple : La droite d_1 a pour équation cartésienne : $3x + 4y - 10 = 0$.

a) Déterminer une équation cartésienne de la droite d_2 qui passe par le point $A(-1 ; -3)$ et perpendiculaire à la droite d_1 .

b) Déterminer les coordonnées du point d'intersection H des droites d_1 et d_2 .

c) En déduire la distance du point A à la droite d_1 .

a) $\vec{n}(3 ; 4)$ est normal à la droite d_1 , c'est donc un vecteur directeur de d_2 .

Une équation cartésienne de d_2 est de la forme $4x - 3y + c = 0$. A appartient à d_2 donc $4 \times (-1) - 3 \times (-3) + c = 0$ soit $c = -5$. Une équation cartésienne de d_2 est $4x - 3y - 5 = 0$.

b) Les coordonnées de H sont les solutions du système $\begin{cases} 3x + 4y - 10 = 0 \\ 4x - 3y - 5 = 0 \end{cases}$ soit $H(2 ; 1)$.

c) La distance du point A à la droite d est $AH = \sqrt{(2 - (-1))^2 + (1 - (-3))^2} = 5$.

1 La droite d_1 a pour équation cartésienne : $x - 2y - 10 = 0$.

a) Déterminer une équation cartésienne de la droite d_2 qui passe par le point $A(-1 ; -3)$ et perpendiculaire à la droite d_1 .

.....
.....
.....

b) Déterminer les coordonnées du point d'intersection H des droites d_1 et d_2 .

.....
.....

c) En déduire la distance du point A à la droite d_1 .

.....
.....

Nom : _____

Classe : _____

2

La droite d_1 a pour équation cartésienne : $x - 2y - 3 = 0$.

a) Déterminer une équation cartésienne de la droite d_2 qui passe par le cartésienne de la droite d_2 qui passe par le point $A(-1 ; -2)$ et perpendiculaire à la droite d_1 .

.....
.....
.....

b) Déterminer les coordonnées du point d'intersection H des droites d_1 et d_2 .

.....
.....

c) En déduire la distance du point A à la droite d_1 .

.....
.....

3

La droite d_1 a pour équation cartésienne : $x - 2y - 3 = 0$.

a) Déterminer une équation cartésienne de la droite d_2 qui passe par le point $A(3 ; 1)$ et perpendiculaire à la droite d_1 .

b) Déterminer les coordonnées du point d'intersection H des droites d_1 et d_2 .

c) En déduire la distance du point A à la droite d_1 .

Chapitre 10 Parcours 4

Comment déterminer et utiliser l'équation d'un cercle donné par son centre et son rayon ?

Exemple : Déterminer une équation cartésienne du cercle C de centre A(2 ; 5) et de rayon 5. Donner la forme développée de cette équation.

a) Traduire l'appartenance d'un point M(x ; y) au cercle C.

M(x ; y) appartient au cercle C de centre A et de rayon 5 si et seulement si

$$\sqrt{(x - 2)^2 + (y - 5)^2} = 5, \text{ soit } (x - 2)^2 + (y - 5)^2 = 25.$$

b) Donner la forme développée de cette équation.

Une forme développée de l'équation cartésienne de C est :

$$x^2 - 4x + 4 + y^2 - 10y + 25 = 25 \text{ soit } x^2 + y^2 - 4x - 10y + 4 = 0.$$

1

Déterminer une équation cartésienne du cercle C de centre A(-2 ; 3) et de rayon 4.

a) Traduire l'appartenance d'un point M(x ; y) au cercle C.

.....

.....

b) Donner la forme développée de cette équation.

.....

.....

2

Déterminer une équation cartésienne du cercle C de centre A(4 ; -3) et de rayon $\sqrt{5}$.

a) Traduire l'appartenance d'un point M(x ; y) au cercle C.

.....

.....

b) Donner la forme développée de cette équation.

.....

.....

Nom : _____

Classe : _____

3

Déterminer une équation cartésienne du cercle C de centre A(-5 ; 2) et de rayon 3.
Donner la forme développée de cette équation.

4

Déterminer une équation cartésienne du cercle C de centre A(-3 ; -4) et de rayon $\sqrt{3}$. Donner la forme développée de cette équation.

5

Rendre chaque fraction irréductible par la méthode de son choix.

a) $\frac{56}{64}$

.....

b) $\frac{156}{260}$

.....

c) $\frac{322}{276}$

.....

Chapitre 10 Parcours 5

Comment reconnaître une équation de cercle, déterminer son centre et son rayon ?

Exemple : Dans un repère orthonormé, f est l'ensemble des points $M(x; y)$ tels que $x^2 + y^2 - 4x - 2y = 4$. Quelle est la nature de cet ensemble ?

a) Utiliser la méthode de la complétion au carré pour les termes en x et en y .

$$x^2 - 4x = x^2 - 2 \times 2x + 4 - 4 = (x - 2)^2 - 4.$$

$$y^2 - 2y = x^2 - 2 \times 1 \times y + 1 - 1 = (y - 1)^2 - 1.$$

b) Écrire l'équation $x^2 + y^2 - 4x - 2y = 4$ sous la forme $(x - a)^2 + (y - b)^2 = k$.

$$x^2 + y^2 - 4x - 2y = 4 \text{ peut s'écrire } (x - 2)^2 - 4 + (y - 1)^2 - 1 = 4 \text{ soit}$$

$$(x - 2)^2 + (y - 1)^2 = 9.$$

c) En déduire la nature de l'ensemble f .

f est le cercle de centre $A(2 ; 1)$ et de rayon 3.

1

Dans un repère orthonormé, f est l'ensemble des points $M(x; y)$ tels que $x^2 + y^2 + 4x - 6y = 6$. Quelle est la nature de cet ensemble ?

a) Utiliser la méthode de la complétion au carré pour les termes en x et en y .

.....

.....

b) Écrire l'équation : $x^2 + y^2 - 4x - 2y = 4$ sous la forme : $(x - a)^2 + (y - b)^2 = k$.

.....

.....

c) En déduire la nature de l'ensemble f .

.....

.....

2

Dans un repère orthonormé, f est l'ensemble des points $M(x; y)$ tels que $x^2 + y^2 + 4y = 32$. Quelle est la nature de cet ensemble ?

a) Utiliser la méthode de la complétion au carré pour les termes en x et en y .

.....

Nom : _____

Classe : _____

b) Écrire l'équation : $x^2 + y^2 + 4y = 32$ sous la forme : $(x - a)^2 + (y - b)^2 = k$.

.....
.....

c) En déduire la nature de l'ensemble f .

.....

3 Dans un repère orthonormé, f est l'ensemble des points $M(x ; y)$ tels que $x^2 + y^2 + 6x + 4y = -12$. Quelle est la nature de cet ensemble ?

4 Dans un repère orthonormé, f est l'ensemble des points $M(x ; y)$ tels que $x^2 + y^2 - 2x - 8y = -14$. Quelle est la nature de cet ensemble ?